

第 96_1 项训练：数量统计

B		K		M	
---	--	---	--	---	--

训练提示：统计不同图标的数量



使用日期：

计时：

分











秒

错误：

评语：

第 96_2 项训练：记忆排序

训练提示：记忆图标顺序，然后盖住，再写出其顺序

图 例 区					
	1	2	3	4	5
填 写 区					

使用日期：

计时：

分

秒

错误：

评语：

第 96_3 项训练：舒尔特方格

训练提示：请根据教案操作方法操作，并做好时间记录工作。

4	10	15	12
16	3	1	5
14	8	13	6
7	9	2	11

10	5	2	3
15	4	1	14
12	13	16	8
7	11	9	6

使用日期：

计时：

分

秒

错误：

评语：

第 96_4 项训练：矩阵运笔

Three 5x5 dot grids are shown in a row. The first grid has an orange line connecting points at (1,2), (2,4), (3,1), (4,3), and (5,2) in a closed loop. The second grid has a blue line connecting points at (1,4), (2,1), (3,3), (4,5), and (5,4) in a closed loop. The third grid has a red line connecting points at (1,4), (2,5), (3,2), (4,4), and (5,3) in a closed loop. Below these are three empty 5x5 dot grids for practice.

使用日期： 计时： 分 秒 错误： 评语：